

ПРИМЕРЫ ЗАДАНИЙ
МЕЖДУНАРОДНОГО ЧЕМПИОНАТА НАЧАЛЬНОЙ ШКОЛЫ «ВУНДЕРКИНД»
ОКТАБРЬ 2014 ГОД

1 класс

Задания, оцениваемые в 3 балла


4. Какие животные не сопровождали Айболита на его пути в Африку?

- (1) киты (2) волки (3) слоны (4) орлы

Ответ: 3

Задания, оцениваемые в 4 балла

10. Сколько цифр 7 на рисунке?



- (1) 5+3
(2) 8-1
(3) 4+2
(4) 9-1

Ответ: 14

Задания, оцениваемые в 5 баллов

19. Прочитай отрывок из рассказа Н. Сладкова «Хитрый одуванчик» и выбери верные утверждения.

Говорят, хитрей лисицы и зверя нет. Зверя, может, и нет, а вот одуванчик хитрее лисы! На вид простака простаком. А на деле себе на уме. Страсть хитрый!

Холодно весной, голодно. Все цветы в земле сиднем сидят, ждут своего тёплого часа. А одуванчик уже зацвёл! Лучится как яркое солнышко. С осени он в корнях еду припас; всех обскакал. Спешат на его цветы насекомыши. Ему и ладно: пусть опыляют.

- (1) одуванчик – это зверёк, который хитрее лисицы
(2) одуванчик цветёт ранней весной
(3) насекомые любят опылять цветок одуванчика
(4) только в 3 предложении четыре слова.

Ответ: 23

2 класс

Задания, оцениваемые в 3 балла

7. Кто такой Иван Фёдорович Крузенштерн?

- (1) мореплаватель
- (2) пароход
- (3) адмирал
- (4) дедушка кота Матроскина

Ответ: 13

Задания, оцениваемые в 4 балла

12. В таблице приведены примеры животных-рекордсменов. Какой рекорд закрепился за садовой улиткой?

Гепард	Синий кит	Нильский бегемот	Садовая улитка
Самое быстрое наземное животное	Самое крупное животное	Самое толстокожее животное	?

- (1) Самое маленькое животное.
- (2) Самое медлительное животное.
- (3) Самое зубастое животное.
- (4) Самое скользкое животное.

Ответ: 3

Задания, оцениваемые в 5 баллов

19. В сказке А. Пушкина «Сказка о рыбаке и рыбке» есть такие строчки:

*На крыльце стоит его старуха
В дорогой собольей душегрейке,
Парчовая на маковке кичка...
Что означает слово кичка?*

- (1) старинный гребень;
- (2) старинный женский головной убор;
- (3) корона;
- (4) старинная женская заколка.

Ответ: 2

3 класс

Задания, оцениваемые в 3 балла

3. Какой частью речи являются эти слова?

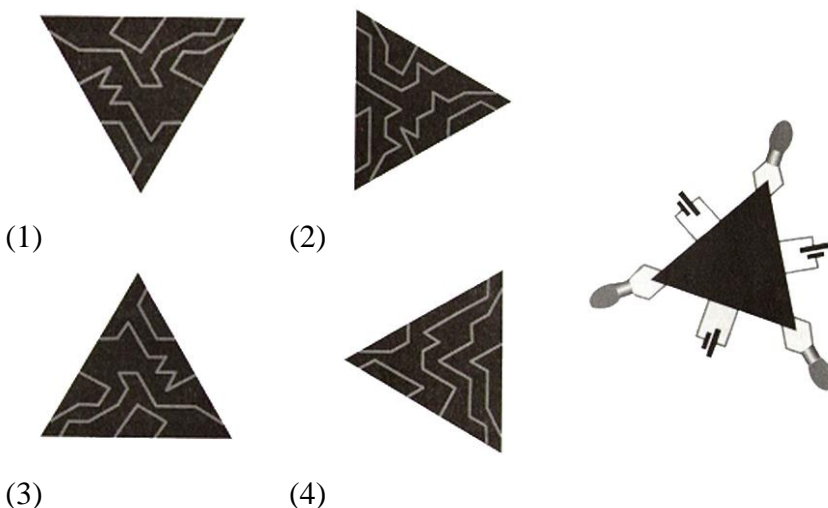
Баляка, осипетость, пуляшка, музипунчик

- (1) глаголы (2) существительные (3) прилагательные (4) местоимения

Ответ: 2

Задания, оцениваемые в 4 балла

14. На рисунке показаны три лампы и три батареи, но печатная плата треугольной формы отсутствует. Выберите из четырёх печатных плат ту, которая соединит все лампы со своими собственными батареями.



Ответ: 2

Задания, оцениваемые в 5 баллов

25. Петя собирался в художественную школу, подошёл к зеркалу поправить воротник и взглянул на часы, которые висели на стене напротив зеркала. Через 15 минут Пете нужно выходить из дома, чтобы не опоздать. Какое отражение часов увидит в зеркале Петя через 15 минут?



(1)



(2)



(3)




(4)

Ответ: 4

4 класс

Задания, оцениваемые в 3 балла

6. Какое число надо дописать, чтобы сумма чисел на рисунке была равна 35?



- (1) 1
- (2) 2
- (3) 3
- (4) 4

Ответ: 4

Задания, оцениваемые в 4 балла

16. На какой полке в библиотеке стоят только книги, написанные в жанре приключения?

(1) А. Рыбаков «Приключения Кроша», А. Ишимова «История России в рассказах для детей», К. Булычёв «Приключения Алисы»

(2) Л. Кэрролл «Алиса в стране чудес», А. Толстой «Золотой ключик, или приключения Буратино»

(3) В. Бианки «Тайна ночного леса», М. Пришвин «Зелёный шум», Н. Сладков «Бюро лесных услуг»

(4) М. Твен «Приключения Тома Сойера», Ж. Верн «Таинственный остров», В. Каверин «Два капитана»

Ответ: 4

Задания, оцениваемые в 5 баллов

24. Определи, какие народности нарисованы на картинках. Выбери ту пару, которая предпочтительней живёт на Кавказе.



(1)



(2)



(3)



(4)

Ответ: 2