


ПРИМЕРЫ ЗАДАНИЙ
МЕЖДУНАРОДНОГО КОНКУРСА-ИГРЫ ПО ОБЖ «МУРАВЕЙ»
НОЯБРЬ 2012 ГОДА

Детский сад

Задание 1. Правила поведения дома


2. Рассмотрни рисунки. На какой картинке мальчик правильно смотрит телевизор? Обведи правильный рисунок.



Ответ: 2

Задание 2. Правила поведения на улице

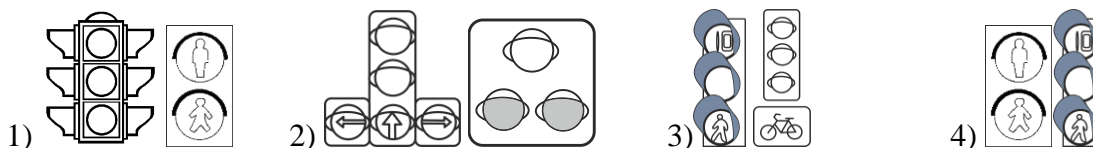
6. Как одеться, если на улице холодная осенняя погода (морозящий дождь)? Обведи группу рисунков с правильными ответами.



Ответ: 3

Задание 3. Правила поведения на дороге

10. Какие светофоры предназначены только для пешеходов? Обведи группу рисунков с правильными ответами.




Ответ: 4

Задание 4. Правила поведения на отдыхе

14. Рассмотрни рисунок и определи, кто из ребят наиболее подвергает свою жизнь опасности во время грозы.

- 1) А;
 - 2) Б;
 - 3) В;
 - 4) НИКТО
- Ответ: 1



1 класс

Задание 1. Правила поведения дома

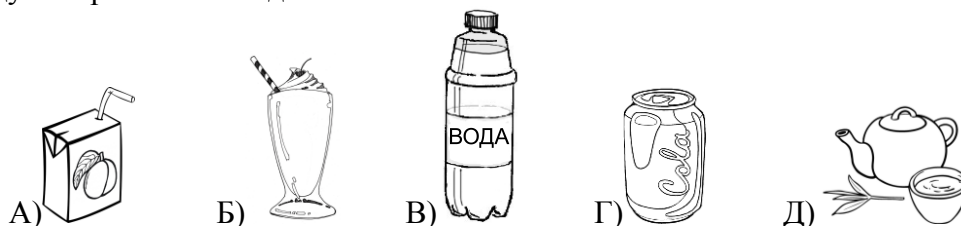
5. Почему в жилых помещениях необходимо бороться с комнатными мухами?

- 1) мухи питаются теми же продуктами питания, что и человек;
- 2) укусы мух болезненны для человека;
- 3) мухи переносят возбудителей заболеваний и заражают ими продукты питания человека;
- 4) мухи неприятно жужжат.

Ответ: 3

Задание 2. Правила поведения на улице

6. Рассмотрите рисунки и отметьте правильный ответ. Какие напитки лучше всего утолят жажду в жаркий летний день?



1) А, Б;

2) В, Г;

3) В, Д;


4) Б, Г.

Ответ: 3

Задание 3. Правила поведения на дороге

11. Рассмотрите рисунок и определите, кто идет правильно по проезжей части дороги, где нет тротуара. Отметьте правильный ответ.

- 1) А;
- 2) Б;
- 3) В;
- 4) все идут правильно

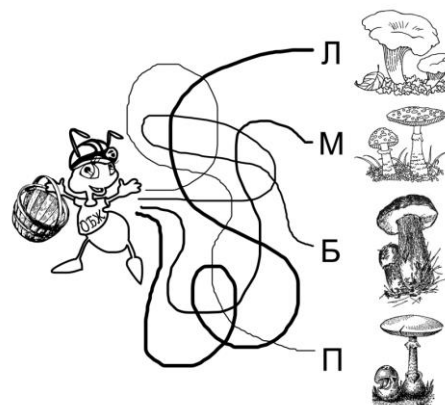


Ответ: 1

Задание 4. Правила поведения на отдыхе

16. Пробеги по дорожкам и собери вместе с Муравьем съедобные грибы. Отметьте правильный ответ.

- 1) Л, М;
- 2) М, Б;
- 3) Б, П;
- 4) Л, Б.



Ответ: 4

2-3 классы

Задание 1. Правила поведения дома

2. Находясь на кухне, ты обжог паром руку. Кожные покровы покраснели, жгучая боль. Как ты без помощи взрослых можешь устранить болевые ощущения?

- 1) обильно смазать обожженную поверхность кремом;
- 2) обильно смазать обожженную поверхность одеколоном;
- 3) наложить стерильную повязку;
- 4) подставить обожженную поверхность под струю холодной воды.

Ответ: 2

Задание 2. Правила поведения на дороге

14. Какие меры безопасности следует предпринимать при переходе автомобильной дороги?

- А) дождаться соответствующего сигнала светофора или регулировщика;
- Б) удостовериться в отсутствии движущихся автомобилей;
- В) не мешкая перейти дорогу с другими пешеходами;
- Г) по возможности воспользоваться подземным переходом;
- Д) переходить дорогу в строго отведенном месте;
- Е) дожидаясь перехода не стоять на краю тротуара;
- Ж) все варианты верны.

- 1) А; 2) Г; 3) Д; 4) Ж.

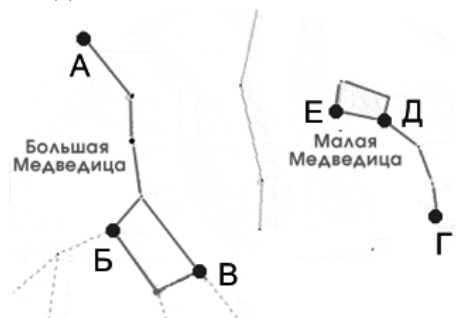
Ответ: 4

Задание 3. Правила поведения на отдыхе

17. Под какой буквой на рисунке обозначена Полярная звезда?

- 1) Е;
- 2) Б;
- 3) А;
- 4) Г.

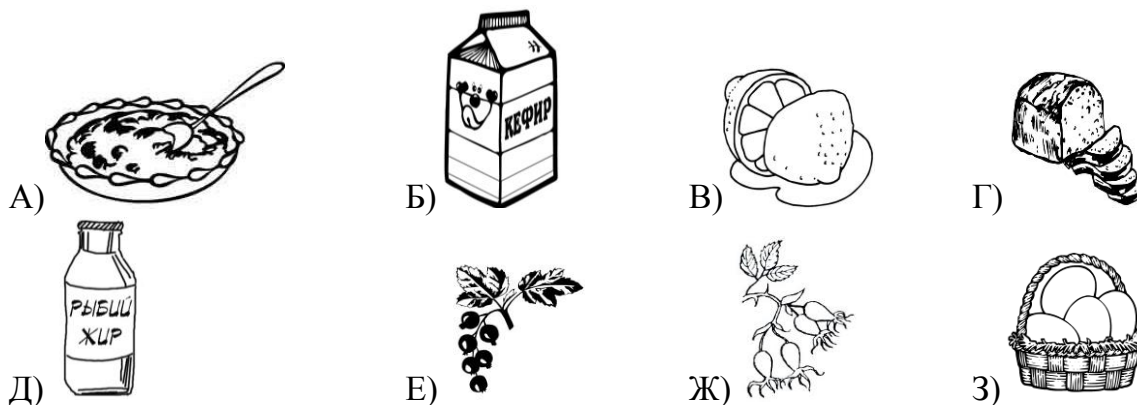
Ответ: 4



4-5 классы

Задание 1. Правила поведения дома

6. В каких из продуктов, нарисованных ниже, содержится витамин С, повышающий иммунитет человека?



1) Б, В, Г;

2) В, Е, Ж;

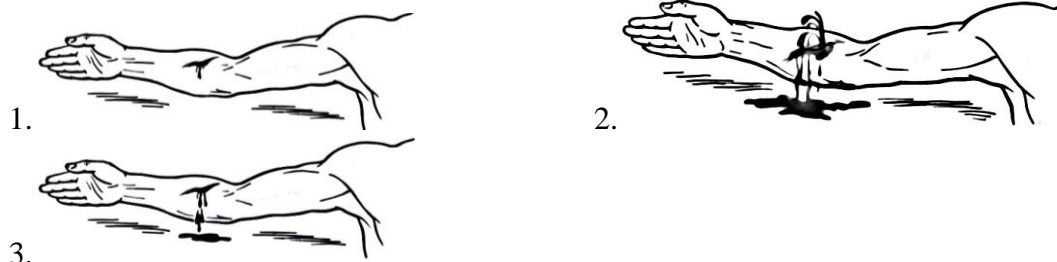
3) А, Д, З;

4) В, Е, З.

Ответ: 2

Задание 2. Правила поведения на улице

8. Соотнесите рисунки видов наружного кровотечения с названием.



- А) венозное кровотечение;
Б) артериальное кровотечение;
В) капиллярное кровотечение.

1) 1–А, 2–Б, 3–В;

2) 1–В, 2–А, 3–Б;

3) 1–В, 2–Б, 3–А;

4) 1–А, 2–Б, 3–В.

Ответ: 3

Задание 3. Правила поведения на дороге

14. Защитный шлем во время движения обязаны надевать –

- 1) водители спортивных мотоциклов;
2) водители всех мотоциклов и их пассажиры;
3) велосипедисты старше 18 лет;
4) только водители мотоциклов.

Ответ: 2

6-7 классы

Задание 1. Правила поведения дома


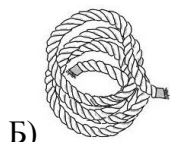
1. В вашей квартире (доме) лопнула батарея центрального отопления. Горячая вода поступает в квартиру. В квартире (доме) вы один (одна). Определите первоочередные действия в этой ситуации.

- 1) максимально уменьшить поступление воды в помещение путем временной заделки отверстия в батарее или откачки воды с помощью подручных средств (ведер, тряпки и др.);
- 2) принять меры к спасению материальных ценностей;
- 3) сообщить соседям (этажом ниже обязательно) о случившемся и попросить их вызвать дежурного сантехника и оказать помощь;
- 4) перекрыть вентиль (кран) подачи воды в системе отопления.

Ответ: 3

Задание 2. Правила поведения на улице

8. Ваш товарищ получил травму во время игры. Что не следует использовать в качестве заменителя жгута при остановке артериального кровотечения?



A) 1) А, Б;

Б) 2) Б, В;

В) 3) В, Г;

Г) 4) Б, Г.

Ответ: 4

Задание 3. Правила поведения на дороге

13. Вы находитесь на перекрестке перед пешеходным переходом, светофор отсутствует. Как правильно переходить дорогу?

- 1) выйти на проезжую часть и продолжать переход, так как этот участок специально предназначен для пешеходов;
- 2) быстро перебежать дорогу;
- 3) перейти дорогу, убедившись, что машины уступают дорогу или находятся на безопасном расстоянии от пешеходного перехода;
- 4) дождаться полного отсутствия машин.

Ответ: 3

Задание 4. Правила поведения на отдыхе

16. Предвестниками какого стихийного бедствия являются следующие признаки: вспышки в виде рассеянных зарниц, голубоватое свечение внутренней поверхности домов, самопроизвольное возгорание люминесцентных ламп, искрение близкорасположенных, но не соприкасающихся проводов:

- 1) любого аномального метеорологического явления;
- 2) сильной грозы;
- 3) урагана;
- 4) землетрясения.

Ответ: 4

8-9 классы

Задание 1. Правила поведения дома

1. Находясь в кабине движущего лифта, вы почувствовали резкий запах гари. Каково ваше первоочередное действие?

- 1) немедленно нажмёте кнопку «Стоп»;
- 2) немедленно нажмёте кнопку «Вызов»;
- 3) поднимите шум, будете звать на помощь;
- 4) сохраняя спокойствие, доедете до нужного вам этажа.

Ответ: 2

Задание 3. Правила поведения на дороге

15. Запрещается ли перевозка детей на велосипеде?

- 1) да;
- 2) нет;
- 3) нет, если ребёнку меньше 7 лет на дополнительном сиденье, оборудованном надёжными подножками;
- 4) нет, если ребёнку меньше 10 лет на дополнительном сиденье, оборудованном надёжными подножками.

Ответ: 3

Задание 4. Правила поведения на отдыхе

20. Выберите косвенные признаки съедобных растений:

- А) яркая окраска плодов;
- Б) птичий помет на ветках;
- В) кора обглодана животными;
- Г) небольшая высота растения;
- Д) плоды поклеваны птицами;
- Е) множество косточек у подножия дерева;
- Ж) плоды растения обнаружены в дупле дерева;
- З) растения на изломе выделяют млечный сок.

- | | |
|----------------|----------------|
| 1) Б, Г, Е, Ж; | 2) А, Г, Е, З; |
| 3) Б, В, Д, Ж; | 4) В, Д, Г, Ж. |

Ответ: 3

Задание 5. Первая медицинская помощь

23. При обморожении руки наиболее безопасным мероприятием, способствующим восстановлению чувствительности, будет

- 1) растирание снегом;
- 2) растирание мягкой синтетической тканью;
- 3) согревание у открытого источника огня (костра, камина и т. п.);
- 4) согревание собственным теплом.

Ответ: 4

10-11 классы

Задание 1. Правила поведения дома

1. От включенной электрогирлянды произошло возгорание искусственной ёлки высотой 1 м 80 см в комнате жилого дома. Выберите правильную последовательность действий:

- А) немедленно облить елку большим количеством воды;
- Б) набросить на горящую елку плотную материю (плед с дивана, одеяло и т. п.);
- В) повалить елку на пол;
- Г) залить горящую елку большим количеством воды;
- Д) обесточить электрогирлянду.

- 1) Д, Б, Г, В;
- 2) Д, В, Б, Г;
- 3) А, В, Д, Б;
- 4) Д, В, А, Б.

Ответ: 2

Задание 3. Правила поведения на дороге

10. Движения на дороге достаточно плотное и в нем спокойно едет скутер. У него был включен ближний свет фары. Скутер едет прямо посередине 6-полосной дороги, прямо по двойной сплошной линии разметки. На скутере водитель и пассажир (возраст 14 лет). Какие правила движения нарушил водитель скутера?

- А) включен ближний свет фары;
- Б) езда по двойной сплошной;
- В) провоз пассажира;
- Г) возраст водителя.

- 1) А, Б, Г;
- 2) Б, В, Г;
- 3) все правила;
- 4) А, Б, В.

Ответ: 2

Задание 4. Правила поведения на отдыхе

14. Соотнесите группы инфекционных болезней с соответствующими примерами:

- 1) кишечные;
- 2) аэрозольные;
- 3) трансмиссивные;
- 4) контактные.
- а) чума, туляремия, клещевой энцефалит, малярия;
- б) хламидиоз, гонорея, сифилис;
- в) корь, дифтерия, натуральная оспа, грипп;
- г) холера, брюшной тиф, дизентерия

- 1) 1–г, 2–а, 3–б, 4–б;
- 2) 1–а, 2–в, 3–б, 4–г;
- 3) 1–г, 2–в, 3–б, 4–а;
- 4) 1–г, 2–в, 3–а, 4–б

Ответ: 4

Задание 5. Первая медицинская помощь

16. Укажите признаки внутреннего кровотечения:

- 1) бледность, отдышка, холодный пот, слабый пульс;
- 2) бледность, увеличение вен на шее;
- 3) слабость, покраснение кожи лица, головная боль;
- 4) учащенное сердцебиение, понижение температуры тела, покраснение кожных покровов.

Ответ: 1