


Примеры заданий
Чемпионата начальной школы «Вундеркинд» (весенний сезон)
Апрель 2015 года

1 класс

Задания, оцениваемые в 3 балла

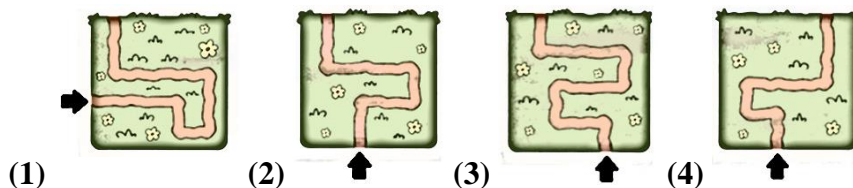
7. Найди лишние картинки, используя разные признаки.



Ответ: 3, 4

Задания, оцениваемые в 4 балла

8. Выбери дорогу, которая приведёт на праздник к Слонёнку, если известно, что она сначала идет вверх, потом поворачивает налево, затем опять вверх, затем направо, далее немного вверх, потом налево и вверх.



Ответ: 3

Задания, оцениваемые в 5 баллов

16. Выбери название необычного вида жука, представленного на картинке.

- (1) долгоносик-слоник;
- (2) долгоносик-жираф;
- (3) долгоносик-лебедь;
- (4) долгоносик-конь.

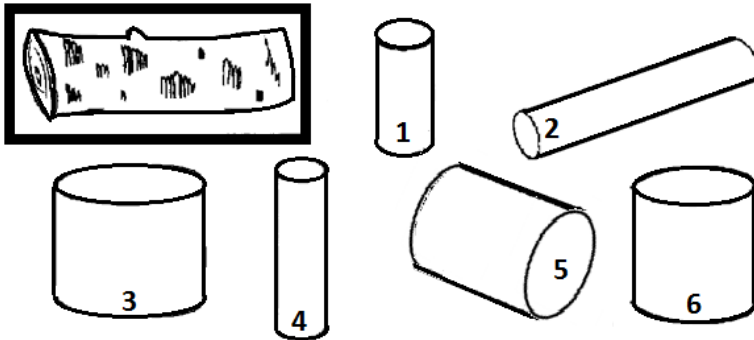


Ответ: 2

2 класс

Задания, оцениваемые в 3 балла







5. Какие детали нельзя выпилить из представленного бревна? В ответе напиши номера деталей.



Ответ: 3, 5, 6

Задания, оцениваемые в 4 балла

9. Расшифруй слова при помощи шифра. В каких словах количество букв совпадает с количеством звуков?












 Т	 О	 К	 Ё	 Р	 Л	 Ь	 Е
--	--	--	--	--	--	--	--

- (1) → ☆ ☆ ↑ ↓ (2) → ☆ ○ ☆ ↓ ←
- (3) → ☆ ○ ☆ ↓ ↑ → (4) → ☆ ↓ ← ☆

Ответ: 1, 3, 4

Задания, оцениваемые в 5 баллов

18. Выбери трёхсложные слова с ударным вторым слогом, обозначающие название млекопитающих.

(1)	 л ,  ,  н ,  нок	(2)	 р  кб ,  д
(3)	 ,  1,2,6	(4)	 тк , 

Ответ: 1, 4

3 класс

Задания, оцениваемые в 3 балла

1. Отгадай загадку:


*Вот гора, а у горы – две глубокие норы.
В этих норах воздух бродит: то заходит, то выходит.*

- (1) трахея (2) легкие (3) бронхи (4) носовая полость

Ответ: 4

Задания, оцениваемые в 4 балла

14. Какой предмет отсутствует на рисунке?

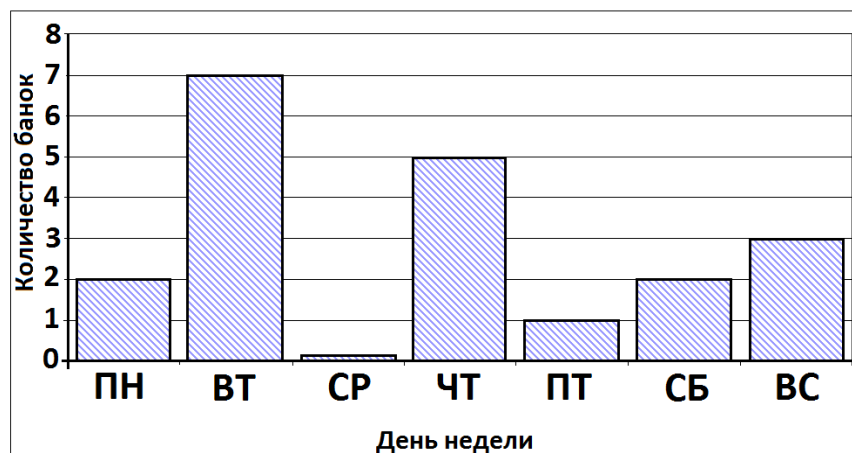


- (1) утюг
(2) ножовка
(3) очки
(4) револьвер

Ответ: 2

Задания, оцениваемые в 5 баллов

22. Рассмотрите диаграмму, которая показывает количество банок варенья, съеденного Карлсоном за неделю в гостях у Малыша. Используя диаграмму, выбери неверные утверждения.



- (1) во вторник Малыш был самым гостеприимным хозяином;
- (2) в выходные Карлсон съел столько же варенья, сколько в него поместилось в четверг;
- (3) за неделю Карлсон съел 19 банок варенья;
- (4) среда оказалась самым несчастным днём в жизни Карлсона: он съел всего ложечку варенья.

Ответ: 3

4 класс

Задания, оцениваемые в 3 балла

10. Скольким килограммам может быть равна масса арбуза?



- (1) 5 кг
- (2) 5 кг 200 г
- (3) 4 кг 700 г
- (4) 5 кг 700 г


Ответ: 2, 4

Задания, оцениваемые в 4 балла


13. Известна история Н. Носова «Подарок» о маленьком мальчике, который, получив новогодний подарок, попросил маму: «Сними, пожалуйста, крышку. Я хочу подарок погладить». Что же это за подарок?



(1)



(2)



(3)



(4)

Ответ: 3

Задания, оцениваемые в 5 баллов

27. Рассмотрю таблицу. Выбери строки, в которых слова соответствуют условию.

№	Условия	Слова
(1)	Имена прилагательные женского рода, единственного числа, с безударной гласной в корне слова	Лесная, задушевная, полевая, беговая
(2)	Имена существительные с непроизносимыми согласными в форме множественного числа	Тростники, лестницы, сверстники, окрестности
(3)	Слова, где есть звук [с] с ударной гласной е во втором слоге	Обследование, поездка, своей, смотреть
(4)	Глаголы настоящего времени, I спряжения, 2 лица	Гуляете, играешь, слетаете, брешь

Ответ: 1, 2, 3